

## TRABALHO DE RECUPERAÇÃO FINAL - 2022

ALUNO (A): \_\_\_\_\_ TURMA: \_\_\_\_\_

VALOR: 40,0 Nota: \_\_\_\_\_

**INSTRUÇÕES:** Todas as questões devem ser respondidas a CANETA.

**Atenção:** Você tem que levar as apostilas 5 e 7 para assistir as aulas de recuperação.

01- Analise o gráfico e responda.



O gráfico mostra que em 1802 a população mundial atingiu 1 bilhão de habitantes. Demorou 125 anos para que ela saltasse para 2 bilhões de habitantes. Após 34 anos, em 1961, ela já chegava a 3 bilhões. Em 1974, 13 anos depois, a população chegou a 4 bilhões de pessoas. Mais 13 anos e, em 1987, ela atingiu os 5 bilhões. Em 1999, após 12 anos, a população mundial chegou aos 6 bilhões. Prevê-se que em 2012 ela atinja os 7 bilhões de habitantes.

A) Por que até o **XVIII** a população cresceu lentamente?

---



---

B) Explique por que no século **XX** a população mundial apresentou expressivo crescimento.

---

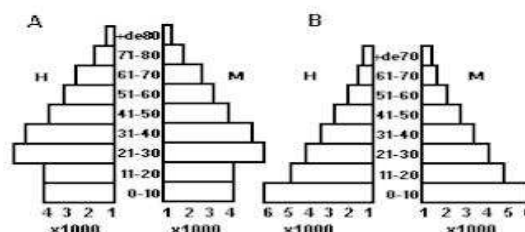


---



---

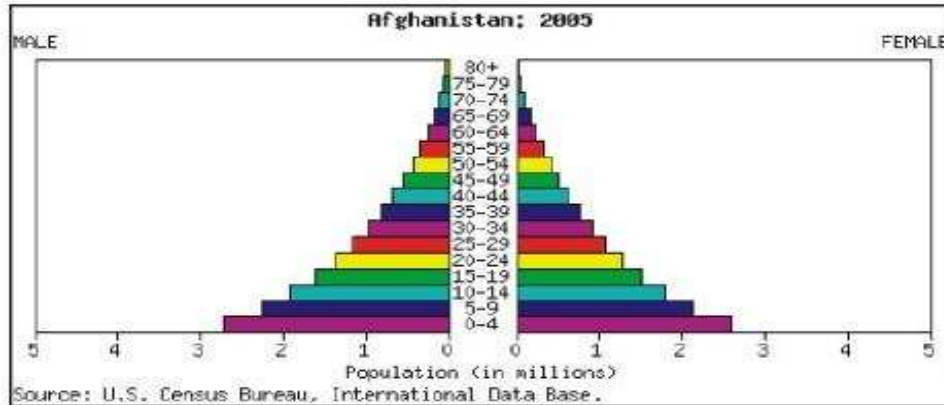
02-No estudo das populações humanas, convencionou-se representar a composição etária através da Pirâmide de Idades. Identifique o nível de desenvolvimento que as pirâmides **A** e **B** representam respectivamente?



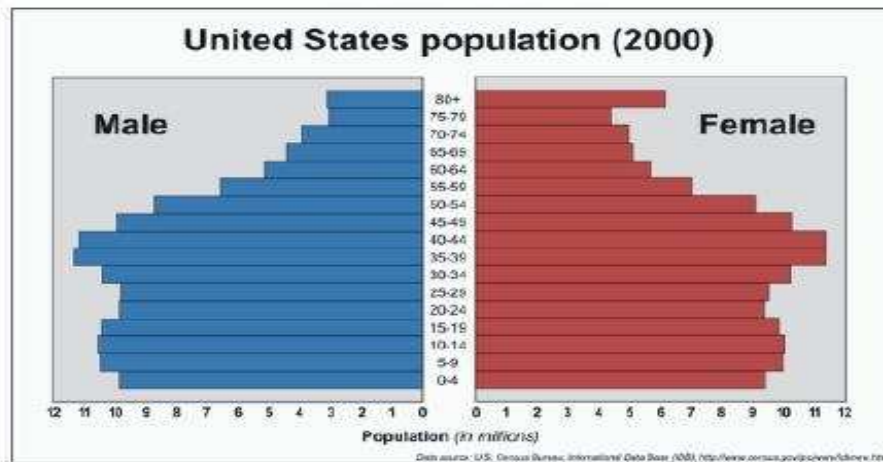
A : \_\_\_\_\_ B; \_\_\_\_\_

03-Respostas as questões A e B

A) A estrutura etária da população mundial mudou a partir da segunda metade do século XX. O aumento da expectativa de vida e a diminuição das taxas de natalidade e mortalidade contribuíram para que as pessoas passassem a viver mais. Esse fenômeno não vem ocorrendo da mesma forma entre países ricos e pobres. Analise estas pirâmides etárias. Com base nas informações do texto e das pirâmides etárias, coloque **V** para a afirmativa verdadeira e **F** para afirmativa falsa.



População Estados Unidos



- ( ) Os países desenvolvidos, como os Estados Unidos, apresentam a parte central da pirâmide mais larga devido às baixas taxas de natalidade e mortalidade.
- ( ) Os países subdesenvolvidos, como o Afeganistão, apresentam a base estreita devido às altas taxas de natalidade.
- ( ) Os países subdesenvolvidos em geral apresentam o topo da pirâmide mais estreito em decorrência da baixa expectativa de vida.

B) Reescreva de maneira verdadeira a afirmativa identificada como falsa.

---

04-Explique a frase a seguir.

*“O Brasil é um país populoso, mas não é um país povoado.”*

---



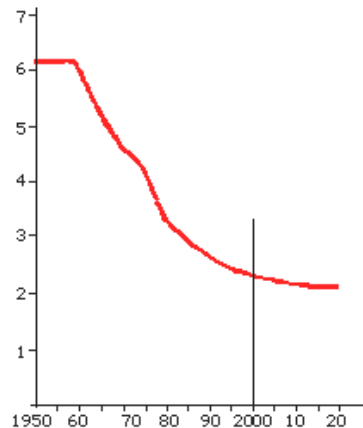
---



---

05-O gráfico abaixo mostra a evolução da taxa de fecundidade, no período 1950 - 2000, e faz uma projeção até 2020.

BRASIL: evolução da taxa de fecundidade (número de filhas por mulher em idade fértil) na período 1950 - 2020.



Fonte: Fundação Instituto Brasileiro de Geografia e Estatística - IBGE

A) Qual é a tendência observada no gráfico sobre a taxa de fecundidade?

---

B) Aponte uma razão que justifique a tendência identificada por você na questão anterior.

---

06-Identifique as teorias demográficas.

A) A população tendia a crescer ainda mais rapidamente do que outrora, o que o fez concluir que o crescimento demográfico seria superior ao ritmo de produção de alimentos.

---

B) De acordo com os teóricos, se não houvesse pobreza as pessoas teriam acesso a educação, saúde, higiene, etc., o que regularia, naturalmente, o crescimento populacional. Portanto, é exatamente a falta dessas condições o que acarreta o crescimento desenfreado da população.

---

C) Essa teoria analisava a aceleração do crescimento populacional segundo uma ótica alarmista e catastrófica, argumentando que, se esse crescimento não for impedido, os recursos naturais da Terra se esgotarão em pouco tempo.

---

07- Como a PEA (População Economicamente Ativa) está distribuída pelos setores da economia?

---

08- “Uma das maiores características da fase atual do sistema capitalista, marcada pela aceleração da globalização e também pelo predomínio da mecanização do campo e da acumulação flexível na produção industrial, é o processo de **terciarização da economia**”.

Explique o que é terciarização da economia.

---

---

---

09-Characterize os quatro estágios do desenvolvimento histórico da atividade industrial.

---

---

---

---

---

---

---

---

10-As economias modernas possuem diversos tipos de indústrias. Identifique e caracterize os três grandes conjuntos, levando em conta o que produzem.

---

---

---

---

---

---

---

---

11-Explique e exemplifique: monopólio, oligopólio, cartel, trustes e holding.

---

---

---

---

---

---

---

---

12-Characterize o fenômeno de **desconcentração industrial**.

---

---

---

---

---

---

---

---

13-Characterize os modelos ou sistemas de produção:

A) Fordista

---

---

---

---

---

---

---

B) Toyotista

---

---

---

---

---

---

---

14-Descreva o *Manufacturing belt* e o *Sun belt*.

---

---

---

---

---

---

---

15-Por que Coreia do Sul, Hong Kong, Taiwan e Cingapura ficaram conhecidos como **Tigres Asiáticos**?

---

---

---

---

---

---

---

16-O que são e quais são os países que forma os BRICS.

---

---

---

---

---

---

---