




NOME:		
DATA:	TRABALHO DE RECUPERAÇÃO 1º TRIMESTRE	
TURMA:	DISCIPLINA: GEOGRAFIA	
PROFESSOR (A): Adriana Rodrigues	NOTA:	
ASSINATURA DOS PAIS E/ OU RESPONSÁVEIS:		

ROTEIRO:

- MÓDULO 1: Lugar, paisagem e espaço geográfico
- MÓDULO 2: Construção do espaço brasileiro
- MÓDULO 3: O espaço e suas representações

Analise a tirinha abaixo.

**QUESTÃO 01.**

Observando os quadrinhos da tirinha, explique como a paisagem foi sendo transformada pelas ações humanas.

QUESTÃO 02.

A personagem Marina demonstra preocupação ao observar algumas paisagens. Que problemas ambientais aparecem na tirinha?

QUESTÃO 03.

Você acha que as transformações mostradas na tirinha são positivas ou negativas para o meio ambiente? Justifique sua resposta.

QUESTÃO 04.

A tirinha mostra que as ações humanas podem:

- a) Não alterar a paisagem
- b) Melhorar sempre o meio ambiente
- c) Transformar e até degradar as paisagens naturais
- d) Afetar apenas as cidades

QUESTÃO 05.

No segundo quadrinho, o rio apresenta sinais de:

- a) Preservação ambiental
- b) Poluição causada pelas atividades humanas
- c) Uso apenas para pesca
- d) Água limpa e própria para banho

QUESTÃO 06.

Observe a imagem abaixo.

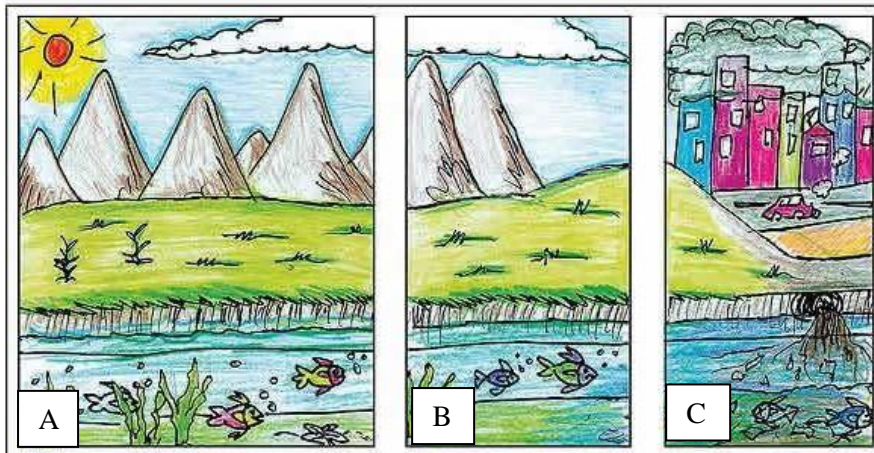


Fonte: <https://www.tudosaladeaula.com/2023/03/atividade-sobre-paisagem-natural-e-modificada-com-gabarito>. Data: 13/03/2026.

A paisagem apresentada pode ser considerada natural ou cultural? Justifique sua resposta.

QUESTÃO 07.

Realize a leitura das imagens a seguir e responda as questões.



Fonte: <https://www.google.com>. Acesso: 13/03/2026.

a) Quais imagens mostram uma paisagem natural?

b) Qual imagem apresenta uma paisagem cultural? Justifique sua resposta.

QUESTÃO 08.

Observe a paisagem abaixo.



Terceiro Plano

Segundo Plano


Primeiro Plano

Complete o quadro descrevendo os elementos que podem ser observados em cada plano da paisagem.

Planos	Descrição da paisagem
1º Plano	
2º Plano	
3ª Plano	

QUESTÃO 09.

A paisagem varia de um lugar para outro, pois cada uma é formada com elementos diferentes. Podem ser classificadas de várias formas, dependendo da influência humana sobre elas.



A imagem acima, considerando as diferentes transformações focaliza uma paisagem.

- a) natural
- b) artificial
- c) cultural
- d) intocada

QUESTÃO 10.

A expansão das cidades, o desmatamento e outras atividades humanas podem alterar paisagens naturais e ameaçar a biodiversidade. Enumere os conceitos apresentados na **Coluna 1** com suas respectivas definições na **Coluna 2**.

Coluna 1	Coluna 2
(A) Biomas	() área que apresenta grande diversidade de espécies e que estão muito ameaçadas pela ação humana.
(B) Endêmico	() conjunto de seres vivos que se encontram em um ambiente caracterizado pelo tipo de vegetação predominante , onde as condições físicas e históricas deram origem a uma biodiversidade única.
(C) Hotspots	() animal ou vegetal exclusivo de determinada região ou área geográfica.

QUESTÃO 11.

A entrada de brancos europeus no território brasileiro teve início em abril de 1500, com a chegada da esquadra de Cabral no litoral brasileiro. A exploração cada vez mais intensa dos recursos naturais deu início ao processo de destruição da Mata Atlântica. Praticamente um único produto despertou o interesse dos exploradores portugueses.

O produto a qual a tirinha e o texto fazem referência é o:

QUESTÃO 12.

No processo de formação da população brasileira tivemos alguns grupos étnicos que se destacaram nessa miscigenação que deu origem ao povo brasileiro

Quais os principais povos que foram formadores da nação brasileira?

**QUESTÃO 13.**

Devido as grandes dimensões do Brasil e à história de nossa formação, nosso país apresenta uma grande variedade geográfica.

As afirmativas abaixo referem-se à **formação do povo brasileiro**. Considerando o que você estudou sobre o tema, assinale V para as afirmativas verdadeiras e F para as falsas.

- O povo brasileiro foi formado pela miscigenação de vários povos.
- O branco já vivia no Brasil e depois chegaram os indígenas.
- Os indígenas apresentaram aos portugueses diversos alimentos obtidos da terra.
- Entre os europeus, os portugueses foram o grupo mais importante na formação do povo brasileiro.
- A grande diversidade cultural dos povos africanos se refletiu na cultura brasileira contribuindo em diversos aspectos, como na música, na dança etc.

QUESTÃO 14.

Desde os primórdios da humanidade, a orientação no espaço sempre foi elemento presente na vida dos homens. Seja para procurar abrigo e alimentação, seja para mapear estratégias de combate na guerra. A observação do sol, lua e estrelas também foi muito importante para a orientação e até hoje é usado.

Observe a figura abaixo e assinale a alternativa que mostra a direção da caminhada do homem com o cavalo.



- a) de oeste para leste
- b) de leste para oeste
- c) de norte para sul
- d) de Sul para norte

QUESTÃO 15.

O Brasil é um dos maiores países do mundo, sendo o maior da América do Sul e faz fronteiras com vários países desse subcontinente.

Pinte no mapa de qualquer cor os países da América do Sul que não limitam com o Brasil.



QUESTÃO 16.

Desde a antiguidade o ser humano utiliza astros como o Sol, a Lua, a estrela polar e as estrelas que formam o Cruzeiro do Sul.

Observe a figura, na qual algumas pessoas estão observando o pôr-do-sol:



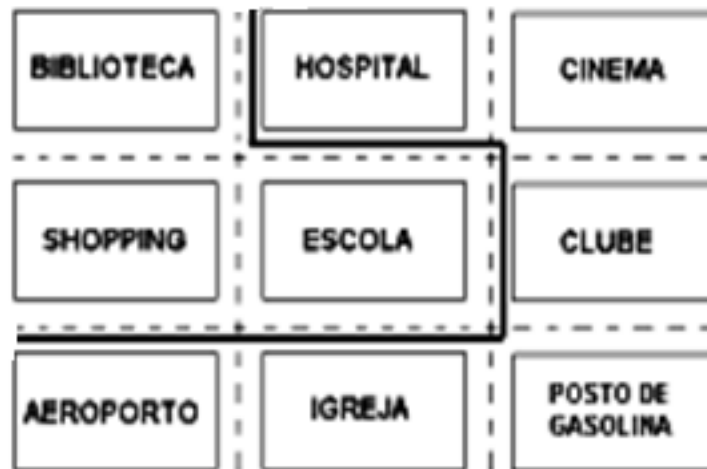
Levando-se em consideração os pontos cardeais, marque a alternativa CORRETA:

- Rafael localiza-se a leste de Maria.
- Pedro localiza-se ao norte de Rafael.
- Maria localiza-se a oeste de Lucas.
- Lucas localiza-se a oeste de Rafael.

QUESTÃO 17.

Ainda sobre orientação, responda as questões abaixo, com base no diagrama da cidade.

Quando eu estiver **na escola**, qual direção que devo tomar para chegar a (ao):



- hospital: _____
- shopping: _____
- posto de gasolina: _____
- cinema: _____
- biblioteca: _____
- igreja: _____

Bom trabalho!

“Não se pode falar de educação sem amor.” Paulo Freire.

