



NOME:		
DATA:	TRABALHO DE RECUPERAÇÃO 1º TRIMESTRE	
TURMA:	DISCIPLINA: GEOGRAFIA	
PROFESSOR (A): Adriana Rodrigues	NOTA:	
ASSINATURA DOS PAIS E/ OU RESPONSÁVEIS:		

ROTEIRO DE ESTUDO:

MÓDULO 1: População do mundo e do Brasil

MÓDULO 2: Expectativa de vida e envelhecimento da população

MÓDULO 3: Mudanças na estrutura etária e suas consequências.

MÓDULO 4: Constituição do povo brasileiro

(Apostila 1)

QUESTÃO 01.

No mundo, ao longo da história, os motivos que levaram e levam até hoje as pessoas a deixarem seus locais de origem são bastantes diversos. Além da guerra e da migração, o que pode levar as pessoas a deixarem sua terra natal? Cite dois motivos que levam a população a migrarem e buscarem uma nova vida em outro país.

QUESTÃO 02.

“Mas a rapidez e a eficácia do progresso médico tornaram-se mais eficientes ainda quando, naquele mesmo período, o progresso econômico lhe permitiu maior difusão; o desenvolvimento dos transportes e do ensino, e a mistura da população como resultado da Revolução Industrial, tudo isso favoreceu a disseminação das descobertas médicas. Depois, o progresso geral da agricultura – que acompanhou e precedeu esses desenvolvimentos, permitiu melhoria no fornecimento de alimento em geral.”

Fonte: Beaujeu-Garnier, J. Geografia de população. São Paulo: Nacional, 1980.

Selecione do texto dois aspectos que podem interferir na diminuição das taxas de mortalidade da população.

QUESTÃO 03.

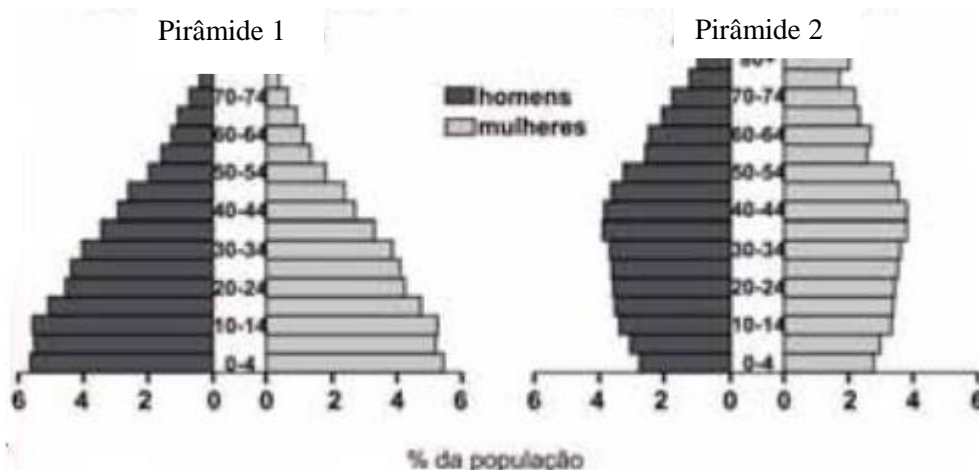
A população mundial não está distribuída de maneira uniforme sobre a superfície terrestre. As populações dos países variam de acordo com os nascimentos, com as mortes e também com as migrações. Embora o número de habitantes do mundo tenha crescido muito, atualmente as mulheres estão tendo menos filhos.

Descreva dois fatores que estão relacionados a queda na natalidade.

QUESTÃO 04.

O estudo da população de um país, de um estado ou de uma região necessita da produção e da análise de gráficos. As pirâmides etárias é utilizada na elaboração de políticas públicas voltadas para o desenvolvimento socioeconômico de uma sociedade e é distribuída por faixa etária e por sexo.

Analise as duas pirâmides etárias abaixo.

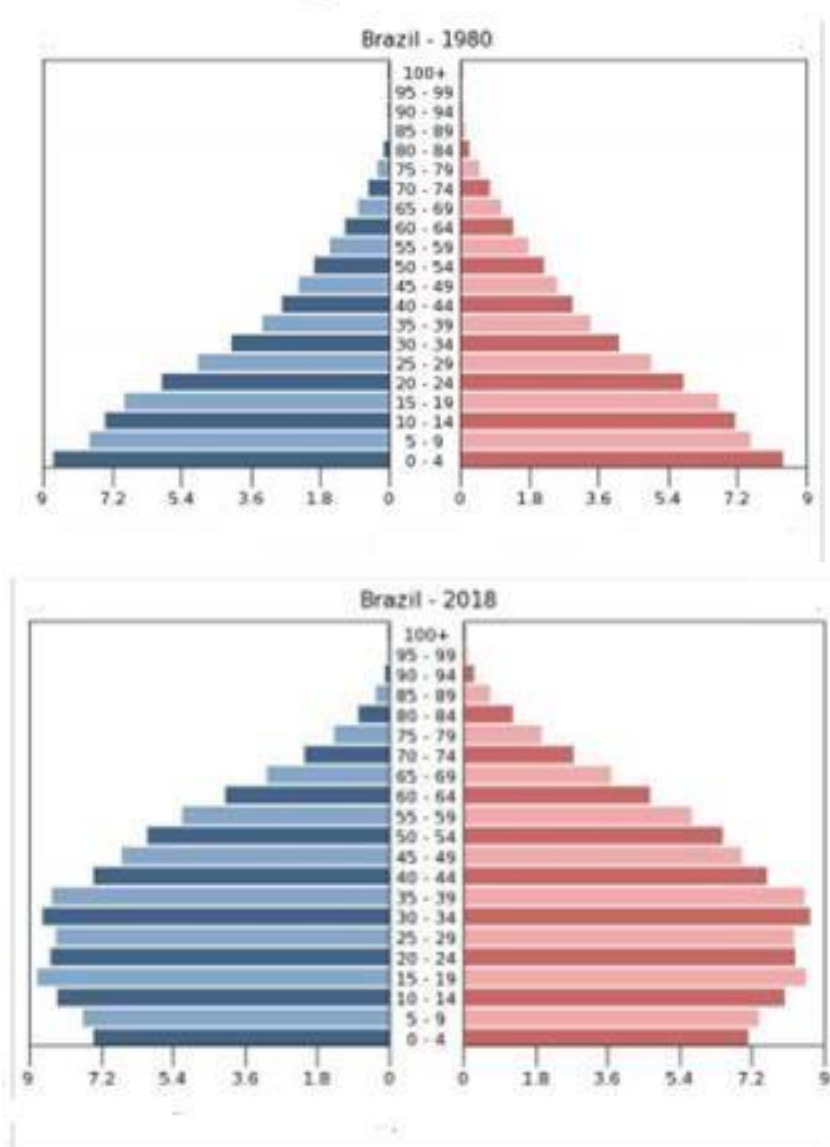


Qual delas se adaptaria melhor no Brasil. Justifique sua resposta.

QUESTÃO 05.

As pirâmides etárias refletem, na evolução demográfica de uma população, demonstrando sua expansão, seu declínio ou sua estabilidade. É utilizada também na elaboração de políticas públicas voltadas para o desenvolvimento socioeconômico de uma sociedade.

As pirâmides abaixo representam a distribuição da população do Brasil por faixa etária e gênero em 1980 e 2018.



A partir da observação dos gráficos e de seus conhecimentos sobre o tema, responda:

Quais são as principais mudanças observadas nas pirâmides etárias do Brasil entre 1980 e 2018?

QUESTÃO 06.

Baseado na imagem das pirâmides etárias da questão 02, entre 1980 e 2018 ocorreu um estreitamento da base e um alargamento do topo das pirâmides etárias do Brasil, demonstrando:

- A diminuição da natalidade e o aumento da fecundidade.
- O aumento da mortalidade e a diminuição da natalidade.
- O aumento da expectativa de vida e o aumento da fecundidade.
- A diminuição da natalidade e o aumento da expectativa de vida.

QUESTÃO 07.

Observe a tabela abaixo sobre desigualdades raciais e de gênero no mercado de trabalho brasileiro. Com base nas informações apresentadas, assinale **V** para as afirmações verdadeiras e **F** para as falsas. Justifique as afirmações falsas.

"Desigualdades no Mercado de Trabalho"	
Rendimento médio mensal (2023)	Taxa de desocupação (desemprego)
Homem branco: R\$ 3.800	Homem branco: 6,5%
Mulher branca: R\$ 2.900	Mulher branca: 8,2%
Homem negro (preto ou pardo): R\$ 2.500	Homem negro: 9,4%
Mulher negra (preta ou parda): R\$ 2.000	Mulher negra: 11,5%

- Mulheres negras possuem, em média, o menor rendimento mensal entre os grupos analisados.
- Homens brancos apresentam o maior rendimento médio e a maior taxa de desemprego.
- Mulheres brancas ganham, em média, mais do que homens negros.
- A taxa de desocupação é mais alta entre os homens negros do que entre as mulheres negras.
- Existe uma diferença de gênero e raça tanto no rendimento quanto na taxa de desemprego.

QUESTÃO 08.

A constituição Federal de 1988 determina, no artigo 3º, inciso XLI, que “constituem objetivos fundamentais da República Federativa do Brasil: promover o bem de todos, sem preconceitos de origem, raça, sexo, cor, idade e quaisquer outras formas de discriminação”.

Em relação aos atos discriminatórios ou de dominação, enumere a 2ª coluna de acordo com a 1ª.

- (1) Racismo
- (2) Etnocentrismo
- (3) Alteridade
- () respeito a individualidade de cada um.
- () discriminação, dominação.
- () considera o seu grupo étnico e cultural o mais importante que os outros.

QUESTÃO 09.

O Instituto Brasileiro de Geografia e Estatística (IBGE) é o órgão responsável por coletar, analisar e divulgar dados estatísticos sobre a população brasileira. Entre suas atribuições, está a classificação da população com base em diversos critérios, como cor ou raça, idade, sexo, escolaridade, ocupação, entre outros. Essa classificação serve de base para a formulação de políticas públicas e o acompanhamento das desigualdades sociais no país.

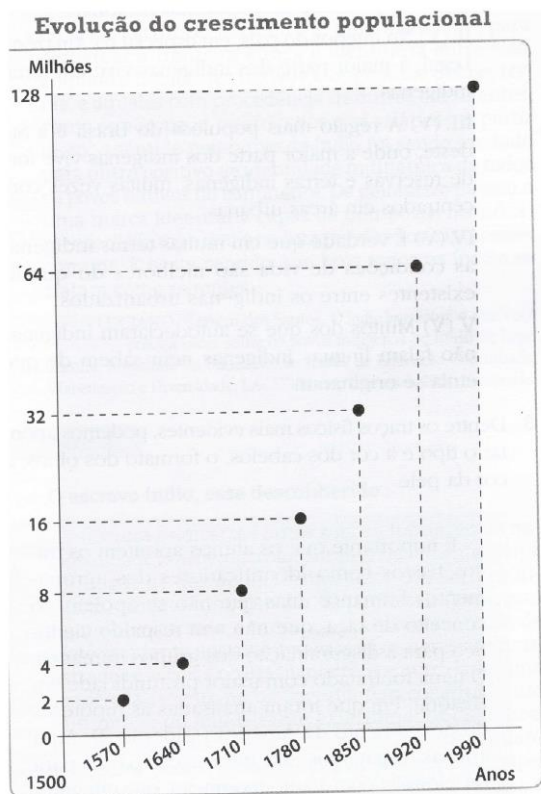
Leia as afirmativas abaixo sobre a classificação da população brasileira e assinale V nas afirmativas verdadeiras e F nas falsas.

- a) () A classificação de cor ou raça adotada pelo IBGE inclui as categorias: branca, preta, parda, amarela e indígena.
- b) () A classificação de raça e cor é determinada pelos recenseadores com base na aparência do entrevistado.
- c) () A categoria “parda” refere-se a pessoas que se identificam como de cor intermediária, incluindo aquelas que se consideram morenas ou mulatas.
- d) () O IBGE não utiliza informações sobre cor ou raça da população para análises sociais ou econômicas.
- e) () Além da classificação por cor ou raça, o IBGE também coleta dados sobre escolaridade, ocupação, renda e local de residência da população.

QUESTÃO 10.

Considere a estimativa de que por volta de 1500 havia apenas 1 milhão de indígenas no território que viria a formar o Brasil e que seu crescimento foi sempre de 1% ao ano, o que dobraria a população a cada 70 anos.

Analise o gráfico abaixo.



De acordo com o gráfico, todas as afirmativas estão corretas em relação ao crescimento populacional dos povos indígenas no Brasil, EXCETO:

- A população indígena cresceu 16 milhões entre 1780 e 1850.
- Entre 1920 e 1990 a população teria aumentado em 64 milhões.
- Em 1640 e 1850 o aumento da população indígena foi de apenas 26 milhões.
- Os indígenas tiveram um aumento expressivo no período de 1850 e 1990.

QUESTÃO 11.

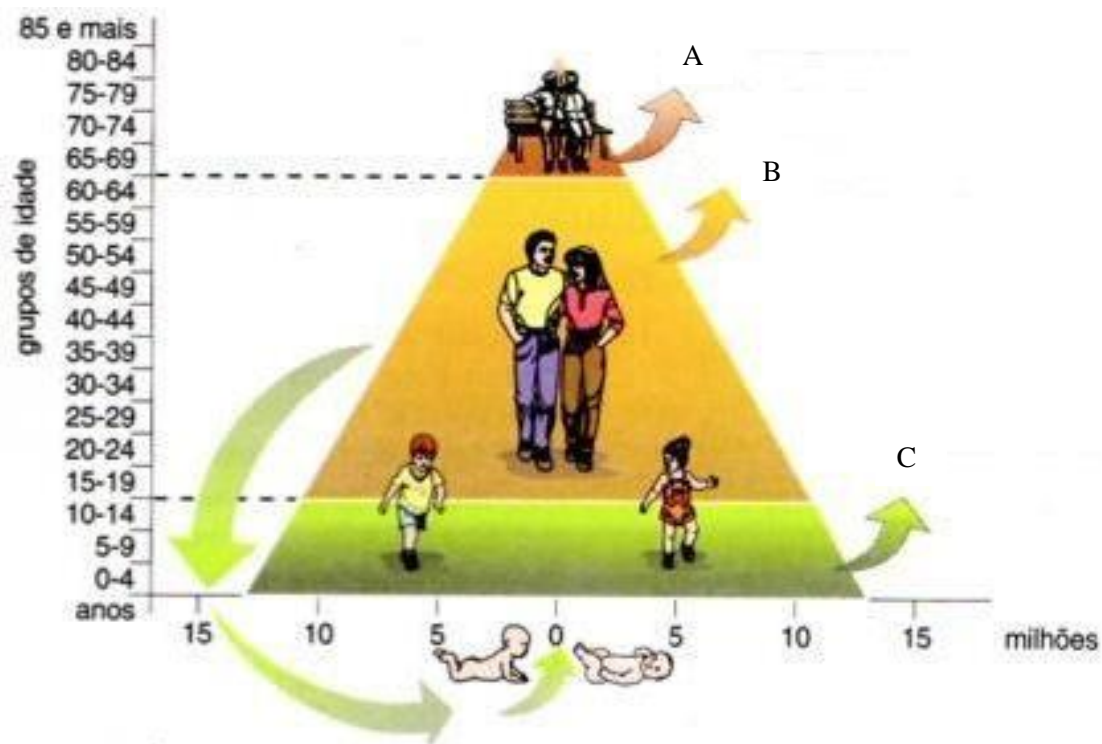
A diversidade humana que compõe o povo brasileiro é resultado da miscigenação entre grupos com diferentes origens étnicas.

Os três principais grupos étnicos que constituíram a sociedade brasileira foram:

- Os portugueses, os japoneses e os alemães.
- Os brancos, os negros e os indígenas.
- Os italianos, os negros e os portugueses.
- Os amarelos, os portugueses e os indígenas.

QUESTÃO 12.

Observe a Pirâmide Etária e marque a resposta correta conforme os grupos de idade.



- a) A – corpo; B – ápice; C – base.
- b) A – corpo; B – base; C – ápice.
- c) A – ápice; B – corpo; C – base.
- d) A – base; B – ápice; C – corpo.

QUESTÃO 13.

Observe atentamente o cartaz de divulgação do Ministério da Saúde de campanha de vacinação.



A realização de campanhas de vacinação está relacionada à tendência da expectativa de vida em nosso país e a consequente elevação da parcela de idosos no total da população? Justifique sua resposta.

QUESTÃO 14.

Ainda sobre a expectativa de vida no Brasil, marque V para as afirmativas verdadeiras e F para as afirmativas falsas.

- a) () A expectativa de vida no Brasil em 2020 era de 76,8 anos.
- b) () No Brasil, estima-se que em 2030 a população de idosos seja maior que a população de crianças e jovens.
- c) () O Brasil já atingiu o patamar de expectativa de vida de países como Japão, Noruega e Suécia.
- d) () O aumento da expectativa de vida no Brasil ocorreu de maneira igualitária em todos os estados.
- e) () A melhora das condições de vida e os avanços tecnológicos contribuíram para o aumento da expectativa de vida no Brasil.

QUESTÃO 15.

Todos os fatores abaixo contribuíram para a diminuição da mortalidade infantil e o aumento da expectativa de vida no Brasil nas últimas décadas, EXCETO.

- a) Implantação de postos de saúde municipais.
- b) Criação do Sistema Único de Saúde (SUS).
- c) Aumento do acesso à assistência médica.
- d) Revolução nas áreas médica e hospitalar.
- e) Manutenção das condições sanitárias precárias.

QUESTÃO 16.

A população brasileira se distribui de maneira desigual pelo território, conforme pode ser observado no mapa a seguir.

Brasil: densidade demográfica – início do século XXI

Fonte: Fonte: <<http://cienciaecultura.bvs.br/scielo>. Acesso: 25/03/2024.

De acordo com o mapa, onde a população brasileira está mais concentrada?

- No litoral, especialmente no Sul, Sudeste e Nordeste.
- No interior, especialmente na Amazônia.
- De forma uniforme em todo o território.
- Principalmente na região Centro-Oeste.

QUESTÃO 17.

Observe o mapa da densidade demográfica e a tabela da população absoluta por regiões no Brasil

Densidade populacional

IBGE, Pesquisa Nacional por Amostra de Domicílios 2018.

**População absoluta das regiões brasileiras em 1940 e 2010
(em milhões de habitantes)**

Região	1940	2010
Norte	1,6	15,9
Nordeste	14,4	53,1
Sudeste	18,3	80,4
Sul	5,7	27,4
Centro-Oeste	1,1	14,1

Disponível em: <<http://ibge.gov.br>>. Adaptado.

Marque a alternativa abaixo que identifica a região menos populosa e a mais povoada do Brasil.

- a) Menos populosa – Sul
Mais povoada – Nordeste
- b) Menos populosa – Sul
Mais povoada – Sudeste
- c) Menos populosa – Centro Oeste
Mais povoada – Sudeste
- d) Menos populosa – Sudeste
Mais povoada – Centro Oeste

QUESTÃO 18.

Analise o gráfico.



Fonte: <http://www.omeuplaneta.com>. Acesso: março de 2022.

Historicamente, em muitos países, o processo de industrialização teve como consequência a saída de muitas pessoas do campo em direção a cidade.

As afirmativas abaixo referem-se à **população urbana brasileira**. Considerando o que você estudou sobre o tema e a análise das informações presentes no gráfico, assinale **V** para as afirmativas verdadeiras e **F** para as afirmativas falsas.

- a) () O gráfico representa um aumento da população urbana.
- b) () Entre 1950 e 2020 ocorreu uma diminuição da população urbana.
- c) () Os dados representados pelo gráfico demonstram a urbanização.
- d) () O aumento da população rural é decorrente do êxodo rural.

Boa prova!

Não se pode falar de educação sem amor.” Paulo Freire

