



NOME:

DATA: / /20

Atividade Online – 23/03

TURMA:

DISCIPLINA: GEOGRAFIA

PROFESSOR (A): KEYLA KISSIA

NOTA:

ASSINATURA DOS PAIS E/ OU  
RESPONSÁVEIS:

Querido(a) aluno(a),

Você poderá realizar a impressão deste material e resolvê-lo de forma manuscrita. Assim que terminar de respondê-lo, você deverá fotografá-lo e enviá-lo por e-mail.

Caso faça a opção pela resolução digital, salve o mesmo, para que, após o término, possa encaminhar para a correção.

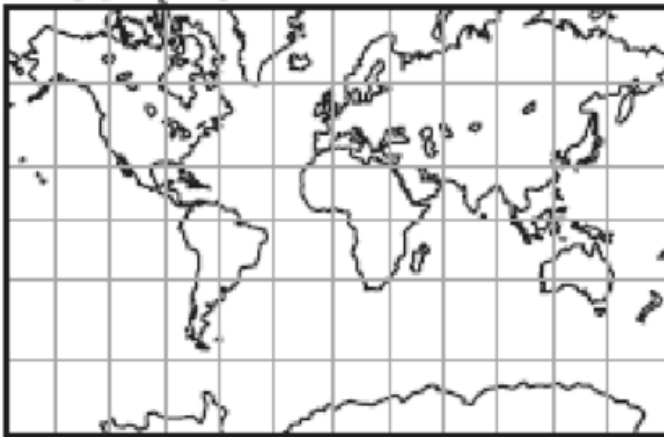
O meu endereço de e-mail: [keylageografia@gmail.com](mailto:keylageografia@gmail.com). O trabalho deverá ser enviado até o dia 30/03.

Qualquer dúvida estou à disposição!

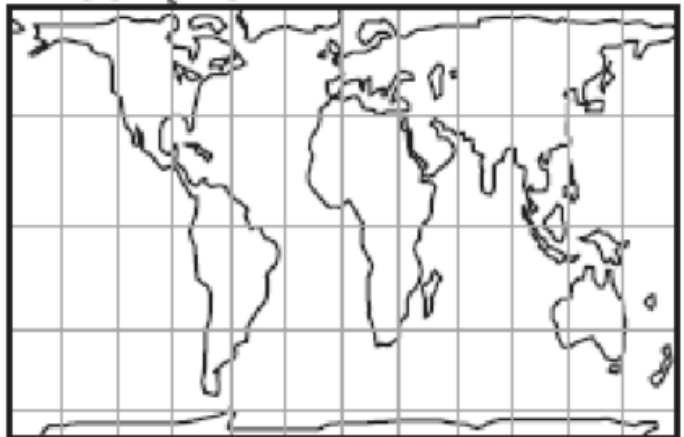
Abraços e bons estudos!

1) Observe os mapas a seguir:

PROJEÇÃO A



PROJEÇÃO B



a) Qual delas corresponde a Projeção de Mercator? \_\_\_\_\_

b) Qual delas é a projeção de Peters? \_\_\_\_\_

c) Estabeleça as principais diferenças dessas duas projeções:

---



---



---



---

2) Sobre as projeções cartográficas, é correto afirmar que:

a) são meios de se representar o espaço terrestre, havendo uma possibilidade ainda não encontrada de não realizar distorções da forma ou das áreas da superfície.

b) são formas de representar a Terra em uma superfície de iguais características externas (forma, tamanho e área)

c) são formas de representar a Terra, que é esférica, em um plano. Por conta disso, sempre haverá distorções.

d) dividem-se apenas em projeções planas e projeções polares.

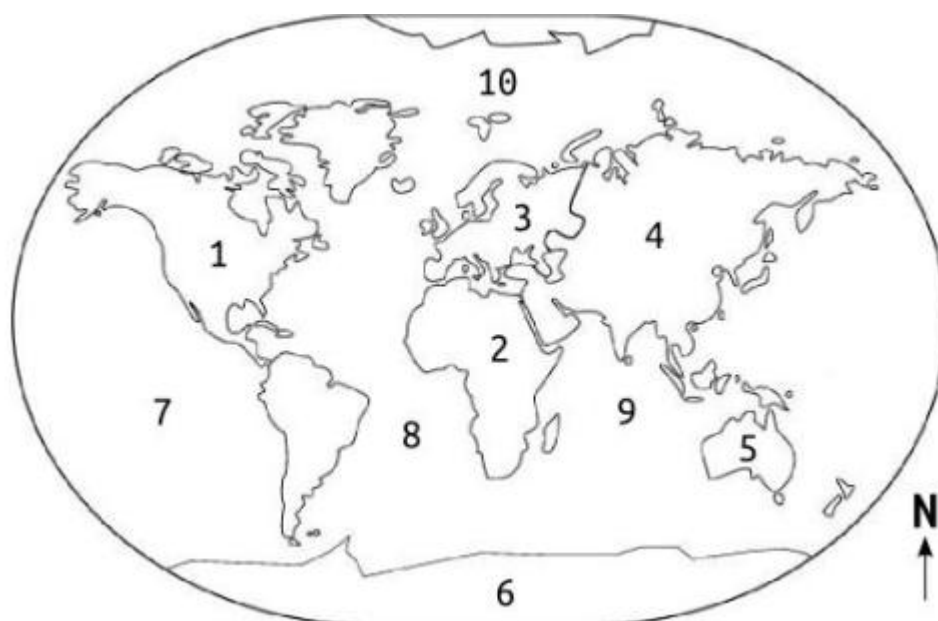
3) Assinale a alternativa correta com base no enunciado abaixo:

“Nesse continente não existem cidades nem áreas agrícolas e não foi dividida em países”.

- a) Ásia
- b) Europa
- c) América
- d) Antártica
- e) Oceania

4) Do ponto de vista histórico-geográfico, podemos dividir o mundo em Velho Mundo; Novo Mundo e Novíssimo Mundo. Quais continentes pertencem ao velho mundo?

5) Identifique os continentes e oceanos enumerados no mapa a seguir:



6) O Índice de Desenvolvimento Humano (IDH) é um dado utilizado pela Organização das Nações Unidas (ONU) para analisar a qualidade de vida de uma determinada população. Em 2009, o Brasil apresentou IDH de 0,813, valor considerado alto. Para definição desse índice são utilizadas três variáveis básicas que fazem parte do nosso dia-a-dia.

Para responder considere os itens:

- I. Expectativa de vida
- II. Renda per Capita
- III. Taxa de Exportação
- IV. Taxa de Importação

## V. Educação

As três variáveis básicas que compõem o IDH são as dos itens

- a) I, III e V.
- b) I, II e IV.
- c) I, II e V.
- d) II, III e V.

7) Observe a charge a seguir:



Faça uma análise da charge explicando os conceitos dos três indicadores econômicos presentes.

---



---



---



---



---

8) Observe a tabela e responda às questões a seguir:

Localidade	São Paulo	Rio de Janeiro	Amazonas
População total (milhões de habitantes)	41.262.199	15.989.929	3.483.985
Área (km <sup>2</sup> )	248.222,801	43.780,172	1.559.159,148
Densidade demográfica (habitantes por km <sup>2</sup> )	166,23	365,23	2,23

Fonte: IBGE. Extraído do site: <<http://www.ibge.gov.br/estadosat/index.php>>. Acesso em set. 2013.

- a) Qual é o estado mais populoso? \_\_\_\_\_ E o menos populoso? \_\_\_\_\_
- b) Qual é o estado mais povoado? \_\_\_\_\_ E o menos povoado? \_\_\_\_\_

9) A proporção entre a população e a superfície territorial é um dos elementos que define a relação entre sociedade e espaço. Observe os dados informados abaixo:

<b>País</b>	<b>População absoluta (habitantes em 2008)</b>	<b>Superfície (km<sup>2</sup>)</b>
China	1.313.000.000	9.572.900
França	61.000.000	543.965
Holanda	16.300.000	41.528
Argentina	38.700.000	2.780.403

SIMIELLI, Maria Elena. *Geoatlas*. São Paulo: Ática, 2009.

De acordo com a tabela, o país mais povoado é a:

- a) China
- b) França
- c) Holanda
- d) Argentina

10) Podemos afirmar que todo país populoso é também povoado? Explique.

---

---

---

---