

# LÍNGUA PORTUGUESA

## QUESTÕES 01 a 20

### TEXTO I

Leia esta reportagem:

#### PUBLICITÁRIOS BUSCAM SÍMBOLO POSITIVO PARA A TERCEIRA IDADE

SÃO PAULO – Lucina Ratinho, de 68 anos, ri quando se lembra da discussão que a neta Isabela, de 12, travou na escola, anos atrás. Era Dia da Avó e cada criança tinha de levar uma foto da sua. Isabela foi logo dizendo que a dela era a mais bonita - que, claro, foi contestado pelos coleguinhas. Aí ela disse brava: “A minha é muito mais bonita porque ela corre! A de vocês não corre!”



Pensando em idosos como Lucinda, ultramaratonista, o diretor da agência paulistana Garage IM, Max Petrucci, começou um movimento para dar nova cara à terceira idade brasileira. Ele e outros publicitários querem modernizar o símbolo (ou pictograma, no termo técnico) do bonequinho curvado e apoiado em uma bengala.

[...]

“A forma de retratar o idoso tem de deixar de ser de uma pessoa decadente, porque isso não é verdade. Sim, há perda de vitalidade, mas o idoso hoje vive mais, está mais saudável, ativo e produtivo”, diz Petrucci. “O Brasil está em processo de envelhecimento (da população) e mexer no símbolo é uma forma de conscientização sobre o tema.”

A imagem do homem curvo e de bengala começou a aparecer no país no fim da década de 1990, com o Estatuto do Idoso, e, no início dos anos 2000, com a sanção de leis de atendimento e assentos preferenciais.

[...]

Se depender de Lucina, o pictograma correria. “Bem que podia ser um bonequinho correndo, com um sorriso na cara. Correr é o melhor remédio para o idoso”, receita. “Eu vou durar 120 anos!”

(Estado de São Paulo, 23 Janeiro 2013)

**QUESTÃO 01.** Sabendo que o anúncio foi publicado em um jornal de grande circulação, indique o item que expressa a principal finalidade desse texto.

- A) Relatar a discussão que Isabela travou na escola.
- B) Estimular os leitores a proteger os idosos.
- C) Descrever como os brasileiros tratam os idosos.
- D) Informar sobre o movimento que pretende modificar, no Brasil, o símbolo que representa o idoso.

**QUESTÃO 02.** Assinale a alternativa em que o trecho selecionado expressa uma opinião.

- A) “Era Dia da Avó e cada criança tinha de levar uma foto da sua.”
- B) “A imagem do homem curvo e de bengala começou a aparecer no país no fim da década de 1990 (...)”.
- C) “Bem que podia ser um bonequinho correndo, com um sorriso na cara.”
- D) “Lucina Ratinho, de 68 anos, ri quando se lembra da discussão.”

**QUESTÃO 03.** No trecho “A forma de retratar o idoso tem de deixar de ser de uma pessoa **decadente**, porque isso não é verdade (...)”, a palavra em destaque pode ser adequadamente substituída por

- A) Que sofre perda de um bem.
- B) Que passa a um estado inferior.
- C) Que tomba, vai abaixo.
- D) Que perde uma luta.

**QUESTÃO 04.** Na frase “Eu vou durar 120 anos!”, o ponto de exclamação expressa


- A) Surpresa.
- B) Admiração.
- C) Susto.
- D) Expectativa.

**QUESTÃO 05.** Qual grupo de palavras possui a mesma classificação em relação à tonicidade da sílaba?

- A) Pictograma – vitalidade – saudável.
- B) Envelhecimento – década – publicitários.
- C) Bengala – início – durar.
- D) Diretor – sorriso – idosos.

**TEXTO II**

Leia a tira e responda às questões 6 e 7.



(André Dahmer, *Folha de São Paulo*, 24/09/201.)

**QUESTÃO 06.** Na tira, a personagem emite uma opinião. Como essa opinião pode ser traduzida?

- A) Os humanos são superiores aos animais.
- B) Os pássaros são desumanos.
- C) Os humanos não são solidários.
- D) Os pássaros não são solidários.

**QUESTÃO 07.** No 1º quadrinho, a palavra **SE**, em “se ajudam” e “se revezam”, ressalta a ideia de que os pássaros

- A) Colaboram uns com os outros.
- B) Excluem alguns membros do grupo.
- C) Só colaboram com o grupo em certas condições.
- D) São individualistas e apenas seguem a direção dos ventos.

**QUESTÃO 08.** Na frase “**Eles** se ajudam e se revezam para alcançar um bem comum”, a palavra em destaque pode ser adequadamente substituída por

- A) Humanos.
- B) Pássaros.
- C) Solidários.
- D) Humanos e pássaros.

**TEXTO III**

Leia o anúncio.



(Veja São Paulo, 7/08/2013)

**QUESTÃO 09.** O cartaz acima faz parte de uma campanha com o objetivo de arrecadar doações para projetos em prol do combate à desnutrição infantil de crianças de 0 a 7 anos. Tendo em vista isso, qual é a função do texto acima?

- A) Informar.
- B) Divertir.
- C) Convencer.
- D) Descrever.

**QUESTÃO 10.** A Grey141 criou o texto III para a **Fundação Ação Criança**. A peça em destaque teve como inspiração o Mr. Potato, da Hasbro brinquedos, a qual cedeu os direitos do uso de imagem da personagem.

Sobre a utilização da imagem, é possível concluir que

- A) O boneco é feito de vegetais para representar o desperdício de alimentos.
- B) O boneco é feito de vegetais, já que a comunicação divulga os projetos de combate à desnutrição.
- C) O boneco é feito de vegetais para obrigar o consumo desses alimentos.
- D) O boneco é feito de vegetais porque a campanha é direcionada ao público infantil.

## TEXTO IV

**CÃO RECEBE DIPLOMA DE DIREITO NOS EUA**

*Skeeter, cão-guia de 6 anos, frequentou aulas com aluna tetraplégica. Por comportamento em sala, animal ganhou título de 'dog-tor' em direito.*



O reitor Brad Toben entrega o diploma a Amy Jones, observada pelo fiel Skeeter.

Aos 6 anos, o labrador Skeeter é bacharel em direito. No início de novembro, ele recebeu o diploma honorário da Universidade de Baylor, no estado americano do Texas, após acompanhar durante dois anos e meio todas as aulas exigidas para se graduar.

Skeeter frequentou as aulas como cão-guia da estudante Amy Jones, que sofreu um acidente em 2002 e ficou tetraplégica.

Ela convive com o animal desde 2004. "Ele me ajuda a pegar objetos, já que tenho dificuldades para manipular canetas, por exemplo", conta Amy.

O diploma da escola de direito da Baylor dá ao cão o título de "dog'tor", um trocadilho entre os termos "doctor" (doutor, em inglês) e "dog" (cão).

Skeeter, segundo seus colegas de curso, era um participante ativo das aulas. Ele ficava quieto pelo menos durante a maior parte das preleções dos professores, mas rosnava ou latia quando alguém falava por muito tempo.

Ao contrário de sua dona, o cão não deve prestar exame da ordem dos advogados do Texas. "Ele está satisfeito com o diploma", brinca Amy.

(Disponível: <http://g1.globo.com/Noticias/PlanetaBizarro>)

**QUESTÃO 11.** Os portais de notícias *on-line* e jornais impressos, na maioria das vezes, têm como principal objetivo publicar notícias de fatos relevantes ou curiosidades, de interesse público. Levando-se em consideração o gênero notícia e as informações contidas nesse texto, é **CORRETO** afirmar que

- A) O texto revela dedicação, amizade e laços de afeto entre o cão e sua dona.
- B) A notícia leva o leitor a refletir a respeito dos perigos de criar raças de cães ferozes.
- C) O cão deve prestar exame da ordem dos advogados do Texas.
- D) Skeeter recebeu o diploma honorário da Universidade de Baylor, no estado americano do Texas, após acompanhar durante dois anos e meio algumas aulas exigidas para se graduar.

**QUESTÃO 12.** No trecho "*Ele está **satisfeito** com o diploma*", brinca Amy", a palavra em negrito caracteriza outra palavra. Marque a opção em que a palavra destacada **NÃO** exerce a mesma função.

- A) Aos 6 anos, o labrador Skeeter é bacharel em direito.
- B) "No início de novembro, ele recebeu o diploma honorário da Universidade de Baylor (...)"
- C) "Skeeter, segundo seus colegas de curso, era um participante ativo das aulas."
- D) "(...) Amy Jones, que sofreu um acidente em 2002 e ficou tetraplégica".

**QUESTÃO 13.** Essa notícia foi publicada na página intitulada “Planeta Bizarro”. Levando-se em conta o emprego do adjetivo **bizarro**, quais notícias são publicadas nessa página?

- A) Notícias curiosas, inesperadas.
- B) Notícias comuns, triviais.
- C) Notícias almeçadas, desejadas.
- D) Notícias horrendas, desagradáveis.

#### TEXTO V

#### A POMBA E A FORMIGA



Uma Formiga foi à margem de um rio para beber água, no entanto, de forma inesperada, acabou sendo arrastada por uma forte correnteza, estando prestes a se afogar.

Uma Pomba, que estava numa árvore sobre a água observando a tudo, arranca uma folha e a deixa cair na correnteza perto da mesma.

Então, subindo na folha a Formiga pode flutuar em segurança até a margem mais próxima.

Eis que pouco tempo depois, um caçador de pássaros, escondido sob a densa folhagem da árvore, se prepara para capturar a Pomba.

Ele, cuidadosamente, coloca visgo no galho onde ela repousa, sem que a mesma perceba o iminente perigo.

A Formiga, percebendo sua má intenção, imediatamente dá-lhe uma forte ferroada no pé. Tomado pelo susto e gritando de dor, ele assim deixa cair sua armadilha de visgo, e isso dá chance para que a Pomba desperte e voe para longe, se pondo finalmente a salvo.

Fonte: <http://sitededicas.uol.com.br>.

#### TEXTO VI

#### OS DOIS AMIGOS E O URSO

Dois amigos caminhavam por um bosque quando, de repente, aparece um urso e começa a persegui-los. Um dos amigos, muito assustado, trepou numa árvore. O outro, abandonado à própria sorte, jogou-se no chão, fingindo-se de morto.



O urso ao vê-lo, aproximou-se pouco a pouco. Porém, este animal, que não se alimenta de cadáveres, segundo dizem, começou a olhá-lo, tocá-lo, observá-lo, examiná-lo.

Mas como nosso amigo não se movia e quase nem respirava, é abandonado pelo urso, que foi embora falando: “Está tão morto como meu bisavô”.

Então o amigo que estava na árvore, alardeando sua amizade, desce correndo e o abraça. Comenta sobre a sorte que teve o amigo por ter saído ileso de situação tão perigosa e lhe diz:

- Sabe, parece-me que o urso lhe disse alguma coisa no ouvido, enquanto o cheirava.
- Diga-me, o que foi que ele lhe disse?

E nosso amigo responde:

- Só uma coisa: “Retira tua amizade da pessoa que, se te vê em perigo, te abandona”.

Fonte: <http://sitededicas.uol.com.br>.

**QUESTÃO 14.** A fábula é uma narrativa figurada, na qual as personagens são geralmente animais que possuem características humanas. Com relação aos **textos V e VI**, é **CORRETO** afirmar que

- A) A formiga retribuiu o gesto de gentileza da pomba.
- B) As duas personagens do texto VI são leais e companheiras.
- C) O urso demonstra covardia.
- D) As personagens dos dois textos apresentam o mesmo comportamento.

**QUESTÃO 15.** O trecho que identifica a moral da fábula “Os dois amigos e o urso” é

- A) “- Diga-me, o que foi que ele lhe disse?”
- B) “Retira tua amizade da pessoa que, se te vê em perigo, te abandona.”
- C) “Então o amigo que estava na árvore, alardeando sua amizade, desce correndo e o abraça”.
- D) “-Está tão morto como meu bisavô.”

**QUESTÃO 16.** Releia:

“Dois amigos caminhavam **por um bosque** quando, de repente, aparece um urso e começa a persegui-los. Um dos amigos, **muito** assustado, trepou numa árvore.”

As palavras em negrito expressam respectivamente

- A) Modo, tempo.
- B) Lugar, tempo.
- C) Negação, afirmação.
- D) Lugar, intensidade.

**QUESTÃO 17.** Em qual alternativa todas as palavras foram separadas em sílabas **CORRETAMENTE**?

- A) Flu- tu-ar, pom-ba, fer- roa-da.
- B) Res-pon-de, de-sce, a- ban-do-na.
- C) A-lar-de-an-do, cor-ren-do, res-pon-de.
- D) Ines-pe-ra-da, cu-i-da-do-as-men-te.

**TEXTO VII**

## TODOS JUNTOS, APRENDENDO COM AS DIFERENÇAS!

<p>Já pensou se todas as pessoas fossem iguais? Que tédio!</p> 	<p>Aprendemos a descobrir e valorizar a diversidade convivendo com pessoas diferentes.</p> 	<p>É graças à maneira de ser, pensar e agir de cada um que o mundo fica mais interessante.</p> 
<p>Mas existem diferenças que a sociedade não entende. Há pessoas que andam de um jeito diferente...</p> 	<p>...falam de um jeito diferente...</p> 	<p>...não enxergam como todo mundo.</p> 
<p>Outras, ainda, aprendem em ritmo mais lento!</p>		
<p><b>TODAS as pessoas têm contribuições para dar, se TODAS tiverem a mesma oportunidade de aprender e conviver.</b></p> 		

ESCOLA



**QUESTÃO 18.** De acordo com o texto é **CORRETO** afirmar que

- A) Pessoas podem contribuir em diferentes aspectos umas com as outras.
- B) As diferenças entre as pessoas é motivo de desunião e bem-estar.
- C) No final do texto é apresentada uma mensagem negativa sobre conviver com as diferenças.
- D) O texto afirma que todas as diferenças são compreendidas pela sociedade.

**QUESTÃO 19.** Sobre o título do texto pode-se afirmar que:

- A) Faz uma crítica a toda a sociedade.
- B) Contradiz as ideias apresentadas nos quadrinhos.
- C) Deixa o leitor confuso sobre o assunto abordado.
- D) Expõe a ideia central do texto, convidando o leitor a participar.

**QUESTÃO 20.** Na frase “Todas as pessoas têm contribuições para dar, **se** todas tiverem a mesma oportunidade de aprender e conviver”, a palavra em destaque indica

- A) Dúvida.
- B) Certeza.
- C) Negação.
- D) Possibilidade.



# MATEMÁTICA

QUESTÕES 21 a 40

**NUNCA DESPERDICE A OPORTUNIDADE DE FAZER O BEM A ALGUÉM!**



## PRATIQUE O BEM!

O Colégio Sólido sabe que cultivar valores como respeito, amizade e justiça é tão importante para crianças quanto o conhecimento adquirido em sala de aula. Por isso, o Projeto Pratique o Bem busca conscientizar os alunos para que tenham comportamento sustentável, que possa garantir um futuro mais solidário e justo à nossa sociedade. *Faça parte desse movimento também!*

**QUESTÃO 21.** A estreia da peça de teatro gerou grande expectativa. As crianças estavam ansiosas para assistir à apresentação do *Projeto Pratique o Bem*. Prova disso é que uma grande fila formou-se na porta de entrada do teatro.

Resolva a expressão abaixo e descubra o comprimento dessa fila, em metros.

- A) 3 m
- B) 4 m
- C) 6 m
- D) 8 m

$$120 \div (8 + 3 \times 4) =$$

A Campanha Criança Esperança surgiu a partir de uma ideia de Renato Aragão. Durante uma seca no Ceará, em 1985, ele resolveu ajudar seus conterrâneos. O sucesso foi imediato e as doações tão grandes que foi necessária a ajuda do exército para levar todos os suprimentos.

**QUESTÃO 22.** Após a leitura atenta da informação acima, assinale a afirmativa **CORRETA** sobre o numeral

**1985**

- A) Possui 198 centenas.
- B) A soma de seus algarismos é igual a 85.
- C) Possui 4 classes e 2 ordens.
- D) A diferença entre o valor absoluto e o valor relativo do algarismo da unidade de milhar é 999.



A Campanha Criança Esperança é um dos projetos apoiados pela UNESCO e foi lançada em 1986, em um programa de televisão. Em 23 anos de existência, a campanha já recebeu mais de 200 milhões de reais em doações, que foram investidos em mais de 8765 projetos sociais brasileiros apoiados por essa campanha.



**QUESTÃO 23.** Observe o número no quadro abaixo:

**8765**

Qual é o valor posicional do algarismo 7 nesse número?

- A) 7
- B) 70
- C) 700
- D) 7000

**QUESTÃO 24.** Em 2006, 73 mil telespectadores contribuíram para a Campanha Criança Esperança. As doações eram feitas por telefone, nos valores de 7 reais, 15 reais e 30 reais. Suponha que, em 2006, em um determinado momento do programa, foram recebidas:

- 200 ligações para doação de 7 reais;
- 100 ligações para doação de 15 reais;
- 50 ligações para doação de 30 reais.

Naquele momento, quanto foi arrecado com todas as ligações?

- A) 350
- B) 4400
- C) 4450
- D) 4500



Os Doutores da Alegria são responsáveis por levarem alegria, distração e conforto para milhares de crianças internadas em hospitais espalhados pelo Brasil. E o único pagamento que eles aceitam são sorrisos e gargalhadas.

**QUESTÃO 25.** Uma nova edição da revista RECREIO chegou às bancas! E o tema escolhido desta vez foi Os Doutores da Alegria! A professora Amanda correu ao jornaleiro e comprou meia dúzia de revistas para que seus alunos pudessem ler ao chegarem à escola. O jornaleiro deu até um desconto: cada revista saiu por apenas R\$ 9,00.

A professora deu R\$ 60,00 para pagar o total da compra. Sendo assim, o jornaleiro deu de troco

- A) Uma nota de 5 reais, uma moeda de 1 real e uma moeda de 10 centavos.
- B) Uma nota de 5 reais e 4 moedas de 25 centavos.
- C) Três notas de 5 reais e uma moeda de 50 centavos.
- D) Duas notas de 2 reais, uma moeda de 50 centavos, oito moedas de 25 centavos.



**QUESTÃO 26.** Hoje, Os Doutores da Alegria, uma organização da sociedade civil sem fins lucrativos, realiza mais de 83.400.000 visitas por ano a crianças internadas em hospitais de São Paulo, Rio de Janeiro, Recife e Minas Gerais.

Esse número, escrito por extenso fica

- A) Oitenta e três milhões e quatrocentos mil.
- B) Oitocentos e trinta e quatro milhões.
- C) Oitocentos e trinta e quatro mil.
- D) Oitocentos e três mil e quatrocentos.



## AQUECIMENTO GLOBAL




**QUESTÃO 27.** Magali não parece estar muito preocupada em plantar árvores para salvar o planeta. Ela parece estar mesmo interessada nos frutos! Imagine que essa árvore que Magali plantou dê 15 frutos, cada um com 12 sementes. Todas estas sementes também foram plantadas por Magali, cada uma originando uma nova árvore. Quantas árvores foram plantadas?

- A) 27
- B) 144
- C) 150
- D) 180

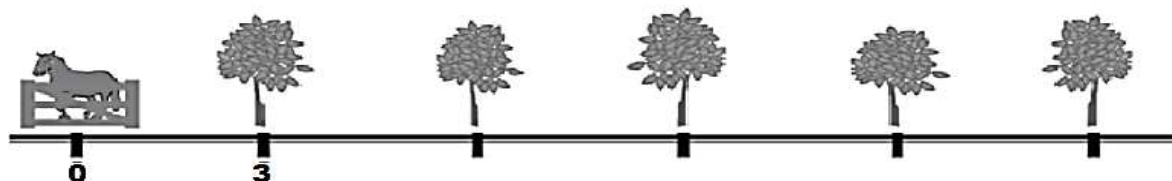
**QUESTÃO 28.** Com a intenção de conscientizar também as crianças, uma nova peça teatral da turma da Mônica está em cartaz: “Um plano para salvar o planeta!”. Mas parece que o painel ilustrativo dessa peça está incompleto!

Qual a fração que representa, corretamente, a parte deste painel que não contém nenhum desenho?

- A)  $\frac{7}{24}$
- B)  $\frac{4}{12}$
- C)  $\frac{15}{48}$
- D)  $\frac{1}{4}$



**QUESTÃO 29.** Jeremias sabe que cuidar do meio ambiente é a forma de fazer o bem, por isso plantou uma fileira de cinco árvores frutíferas começando a partir da cerca onde ele deixa seu cavalo, distanciadas 3 metros uma da outra. Veja abaixo a representação dessas árvores.



Observando essa representação, pode-se afirmar que a distância, em metros, da quarta árvore até a cerca é:

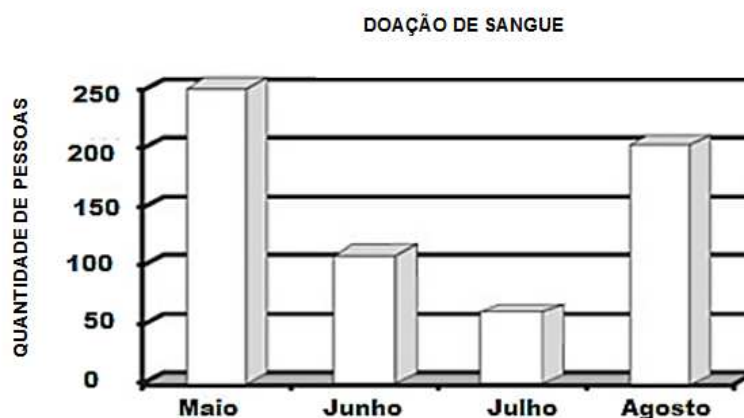
- A) 6
- B) 9
- C) 12
- D) 15

**“TEM SEMPRE ALGUÉM PRECISANDO DE SANGUE PERTO DE VOCÊ.”**



**“DOAR SANGUE, SEM DÚVIDA, É FAZER O BEM!”**

**QUESTÃO 30.** O gráfico, a seguir, mostra a quantidade de pessoas que fazem doação de sangue nos meses de maio, junho, julho e agosto.



De acordo com o gráfico, observa-se que:

- A) Agosto foi o mês no qual se doou mais sangue.
- B) Em maio, doou-se menos sangue do que em agosto.
- C) Em junho, doou-se a mesma quantidade de sangue que em agosto.
- D) Julho foi o mês no qual se doou menos sangue.

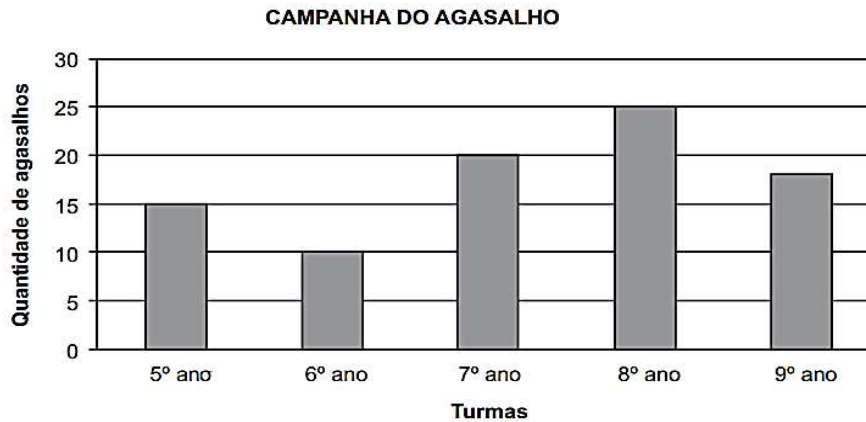
**QUESTÃO 31.** Rodrigo e Rafaela são doadores que estão cadastrados no banco de dados do Hemominas e periodicamente doam sangue. Sabe-se que Rodrigo nasceu em 1992 e que sua irmã Rafaela é mais nova que ele 4 anos. As idades de Rodrigo e Rafaela em 2015 são, respectivamente:

- A) 22 anos e 18 anos.
- B) 23 anos e 19 anos.
- C) 23 anos e 15 anos.
- D) 24 anos e 20 anos.



A polícia Militar de Minas Gerais (PMMG) também participa do Projeto Pratique o Bem. De 25 de maio a 15 de junho, a PMMG realizou novamente a Campanha do Agasalho.

**QUESTÃO 32.** O gráfico abaixo apresenta a quantidade de agasalhos recolhidos por cinco turmas de uma escola para a campanha.



De acordo com esse gráfico, quantos agasalhos a turma do 6º ano arrecadou nessa campanha?

- A) 10
- B) 15
- C) 20
- D) 25



**Esvazie seu armário e encha seu coração!**

**O SORRISO ENRIQUECE OS RECEBEDORES, SEM DEIXAR EMPOBRECER OS DOADORES!**

No dia 17 de junho de 2015, a equipe da Polícia Militar realizou a entrega de 2349 agasalhos em uma das creches da cidade.

As crianças atendidas pela entidade são, na maioria, filhos de cortadores de cana que trabalham nas usinas locais, e a doação de roupas foi recebida com muita alegria.

**QUESTÃO 33.** O antecessor e o sucessor de **2349** são, respectivamente:

- A) 2348 e 2351
- B) 2347 e 2350
- C) 2348 e 2350
- D) 2350 e 2348

No dia 21 de junho de 2015, instituições filantrópicas realizaram, no estacionamento do Shopping Center de Montes Claros, o evento “Sou do Bem”, que teve como objetivo arrecadar fundos para entidades beneficentes da cidade.

**QUESTÃO 34.** Juliana estava juntando dinheiro para comprar ingresso para assistir ao evento. Ela precisava juntar 3 notas de 2 reais, 2 moedas de 1 real e 8 moedas de 25 centavos para comprar o ingresso, que custava

- A) R\$5,00
- B) R\$10,00
- C) R\$15,00
- D) R\$20,00



**CONHECIMENTO NÃO NASCE SOZINHO. CULTIVE.**

Um ensino de qualidade é um desejo. Para mudar, é preciso cuidar diariamente e é isso que fazemos no Instituto Ayrton Senna! Seja um doador e ajude a fortalecer as raízes do ensino do Brasil. A sua participação faz toda diferença.

**QUESTÃO 35.** Na escola *Crescendo e Aprendendo*, o número de meninos representa  $\frac{3}{8}$  do número total de alunos.

Se nessa escola há 300 meninas, o número de meninos é:

- A) 60
- B) 180
- C) 240
- D) 480



Instituto de Estudos de Trabalho e Sociedade (IETS) indica que os programas educacionais do Instituto Ayrton Senna elevaram em até 11 % o crescimento da taxa de aprovação escolar de 947 municípios, entre 1999 e 2005.



**1999**  
antes dos programas - 68 % de aprovação escolar



**2005**  
com programas - 79% de aprovação escolar

**QUESTÃO 36.** Marque a opção que indica a taxa de aprovação escolar em 2005, na forma decimal e fracionária, respectivamente.

- A) 7,9 e  $\frac{79}{10}$
- B) 0,79 e  $\frac{79}{100}$
- C)  $\frac{79}{100}$  e 0,79
- D) 79 e  $\frac{790}{10}$

**POPULAÇÃO DO RIO É SOLIDÁRIA COM AS VÍTIMAS DA CHUVA**

Os alunos de uma escola aderiram à campanha de arrecadação de alimentos não perecíveis, roupas, água mineral e colchonetes, para ajudar as vítimas das fortes chuvas que atingiram o Rio de Janeiro no mês de abril.

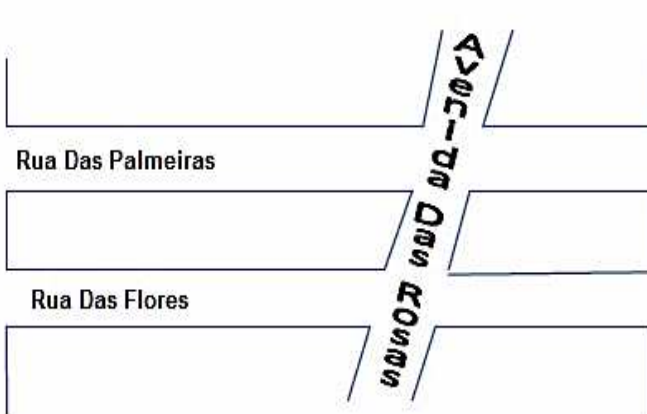
**QUESTÃO 37.** O 3º ano arrecadou 70 colchonetes, e o 4º ano arrecadou 125 colchonetes. O 4º ano arrecadou a mais

- A) 55 colchonetes.
- B) 95 colchonetes.
- C) 170 colchonetes.
- D) 195 colchonetes.



“Graças a você, o Mc Dia Feliz é, desde 1988, a maior campanha do país pela cura do câncer infanto-juvenil. Cada Big Mac vendido nessa data é transformado em sorrisos, pois toda a renda, descontados alguns impostos, é revertida para o Instituto Ronald McDonald.”

**QUESTÃO 38.** As ruas Das Palmeiras e Das Flores ligam a casa de Mara e o Mc Donald. A Avenida das Rosas corta essas ruas. No mapa abaixo, estão representadas essas ruas e a avenida.



Quais delas são paralelas?

- A) Avenida das Rosas e Rua das Palmeiras.
- B) Rua das Palmeiras e Rua das Flores.
- C) Rua das Flores e Avenida das Rosas.
- D) Rua das Flores, Rua das Palmeiras e Avenida das Rosas.



José Dadrino, popularmente conhecido como o Profeta Gentileza, colocou vida, pintou letra por letra e deixou mensagens simples de sabedoria em 56 pilastras no viaduto do Caju, no Rio de Janeiro.

Recebeu esse apelido depois de consolar familiares das vítimas de um incêndio nos anos 1960, no Rio de Janeiro.

**QUESTÃO 39.** No número **1960** a decomposição **CORRETA** é

- A)  $1000 + 900 + 60$
- B)  $1000 + 900 + 6$
- C)  $10000 + 9000 + 60$
- D)  $6000 + 90 + 10$

### CIDADE SE MOBILIZA PARA SALVAR FESTA DE ANIVERSÁRIO DO MENINO AUTISTA NOS E.U.A

O rostinho do menino Glenn não esconde a tristeza, pois, no seu aniversário de 6 anos, nenhum dos 16 convidados, que eram seus colegas de classe, apareceram à festa. Porém, com o apoio da comunidade local, teve uma celebração inesquecível.

**QUESTÃO 40.** Foram longas filas para conhecerem Glenn. Um grupo de 40 pessoas aguarda em uma fila; dentre elas, encontram-se os amigos Aline e Fernando. Supondo que há 14 pessoas atrás de Fernando e 8 pessoas na frente de Aline, indique quantas pessoas há entre Aline e Fernando.

- A) 12
- B) 14
- C) 16
- D) 18